



Identification des éléments de l'objet

1/Colorier les éléments du robot :

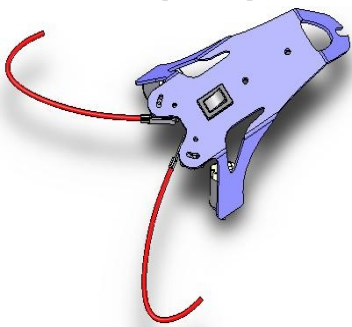
- En jaune les moteurs
- En bleu le châssis
- En vert l'interrupteur
- En rouge les antenne
- En orange les capteurs
- En rose le coupleur de pile

2/ Identifier les fonctions :

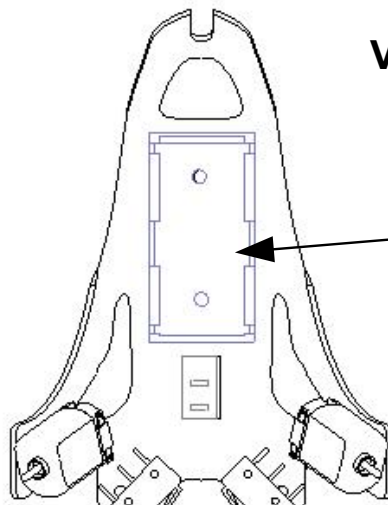
remplir les cases avec le nom de l'objet et dire quelle fonction il remplit parmi les suivantes :

- Stocker l'énergie
- Commander
- Capter
- Transformer une énergie électrique en énergie mécanique
- Supporter les composants

Vue en perspective



Vue de Dessus



Nom:

Fonction:

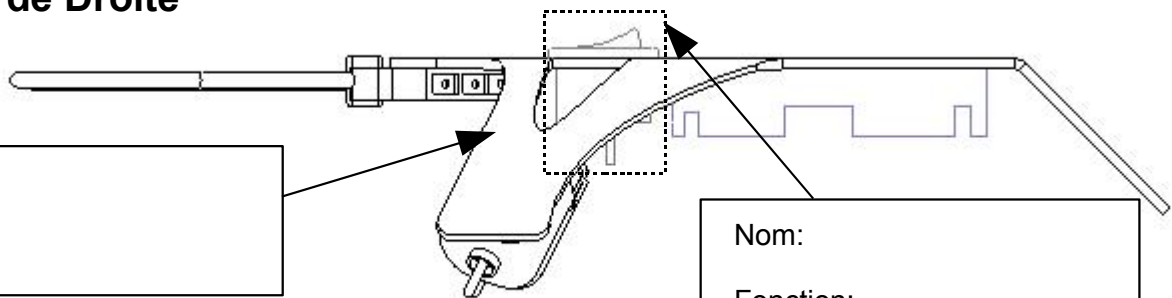
Nom:

Fonction:

Nom:

Fonction:

Vue de Droite



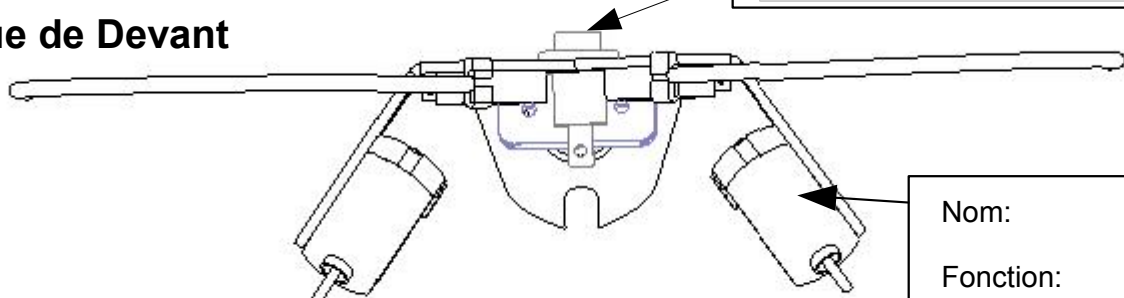
Nom:

Fonction:

Nom:

Fonction:

Vue de Devant



Nom:

Fonction: